

Annexure 1 - Version 1: Arithmetic Worksheet (Individual) [Before Delphi]

ගණිත කුසලතා ඇගයුම් පත්‍රිකාව (වාචික)

1. එකේ සිට නවය දක්වා ගණන් කරන්න. (AI-1)

2. මෙහි ඇති රූප ගණන කියද? (AI-2)



3. පහත අංක කියවන්න. (AI-3)

1 4 3 8 9 10 12

Annexure 2 – Version 1: Arithmetic Worksheet (Group) [Before Delphi]

ගණිත කුසලතා ඇගයුම් පත්‍රිකාව (වාචික)

01. එකේ සිට නවය දක්වා ගණන් කරන්න. (AI-1)

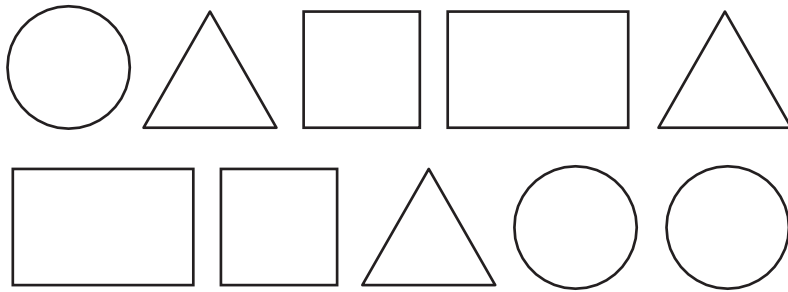
02. පහත අංක කියවන්න. (AI-3)

1 4 3 8 9 10 12

Annexure 3 – Version 1: Arithmetic Worksheet (Group) [Before Delphi]

ගණිතය කුසලතා ඇගයුම් පත්‍රිකාව (ලිඛිත).

1. පහත දී ඇති රූපයේ ඇති ත්‍රිකෝණ ගණන කීයද? (AG-1)
උත්තරය කොටුව තුළ ලියන්න.



.....

2. පහත දී ඇති අකුරු සහ ඉලක්කම් අතරින්
ඉලක්කම් පමණක් රවුම් කරන්න. (AG-2)

r 5 g 4 w h 3 2
u

3. අංකයට ගැලපෙන රූප ගණන යා කරන්න. (AG-3)

3



6



1



4



9



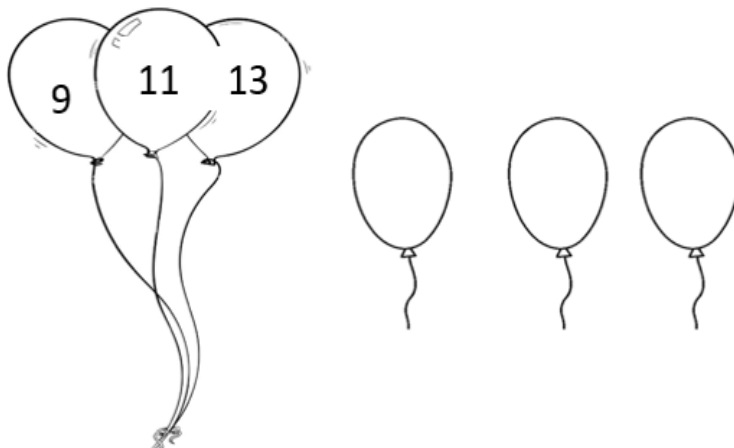
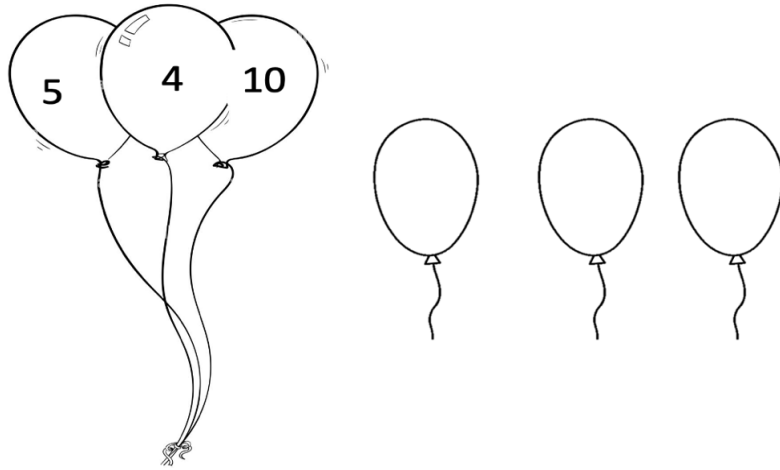
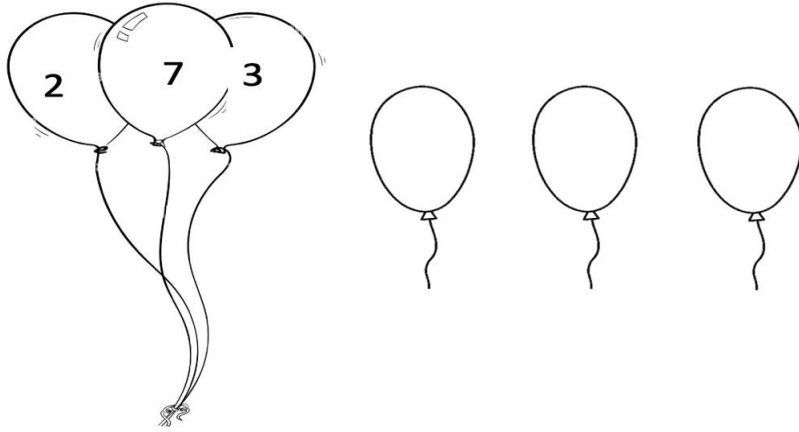
4. අංක 1 සිට පිළිවලට යා කරන්න. (AG-4)

2 7
1 3 6 8
4 5 9

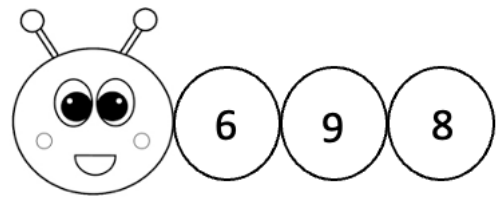
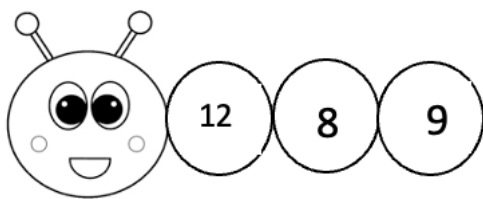
5. අංක දෙකෙන් විශාල අංකය රවුම් කරන්න. (AG-5)

2 5
6 4
1 3
9 8
10 5

6. විශාල අංකය රවුම් කරන්න. (AG-6)



7. දී ඇති අංක වලින් කුඩාම අංකයට යටින් ඉරක් අඳින්න. (AG-7)



8. හිස්තැනට ගැලපෙන අංකය ලියන්න. (AG-8)

1	2	
---	---	--

4	5	
---	---	--

7		9
---	--	---

	11	12
--	----	----

9. දී ඇති අංකයට පසුව එන අංකය ලියන්න. (AG-9)

1 _____

5 _____

4 _____

8 _____

10 _____

10. පහත දී ඇති අංකයට පෙර අංකය ලියන්න. (AG-10)

--	--

--	--

--	--

--	--

	1
--	---

11. එකතු කරන්න. (AG-11)

$$\begin{array}{c} \bigcirc \\ \square \end{array} + \begin{array}{c} \bigcirc \bigcirc \bigcirc \bigcirc \\ \square \end{array} = \square$$

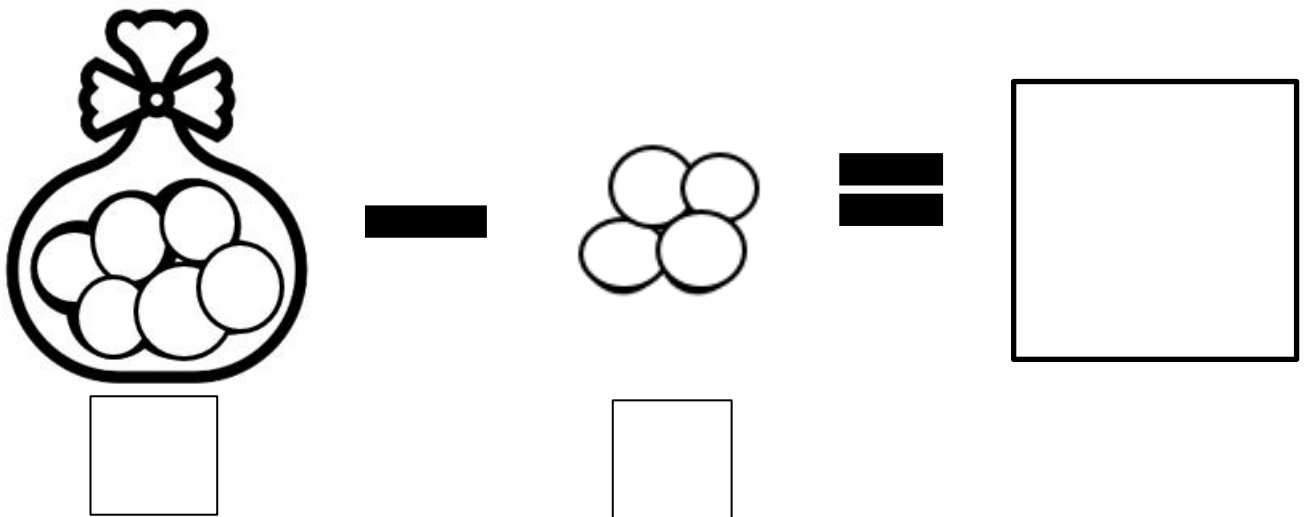
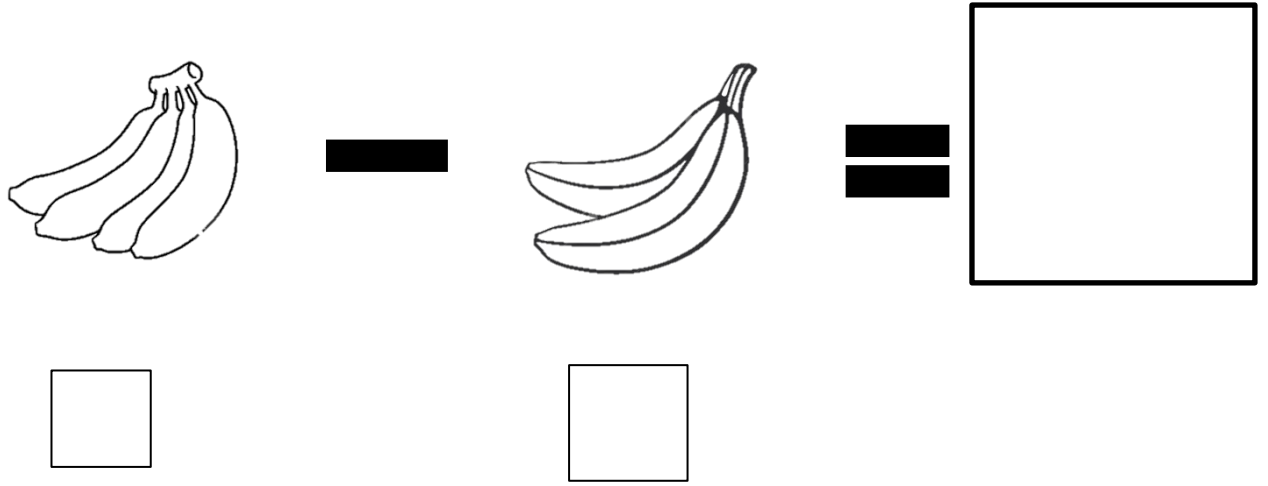
$$\begin{array}{c} \triangle \\ \triangle \triangle \triangle \\ \square \end{array} + \begin{array}{c} \triangle \\ \triangle \\ \square \end{array} = \square$$

$$\begin{array}{c} \text{flower} \\ \text{flower} \\ \text{flower} \\ \text{flower} \\ \square \end{array} + \begin{array}{c} \text{flower} \\ \text{flower} \\ \text{flower} \\ \square \end{array} = \square$$

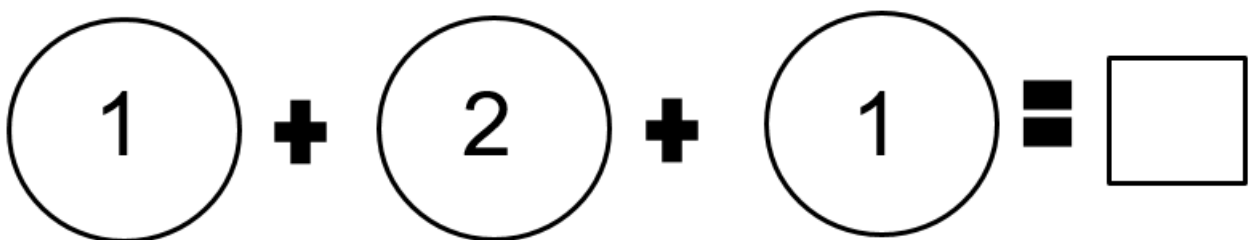
$$3 + 6 = \square$$

$$7 + 5 = \square$$

12. ඉතිරි කීයද? (AG-12)

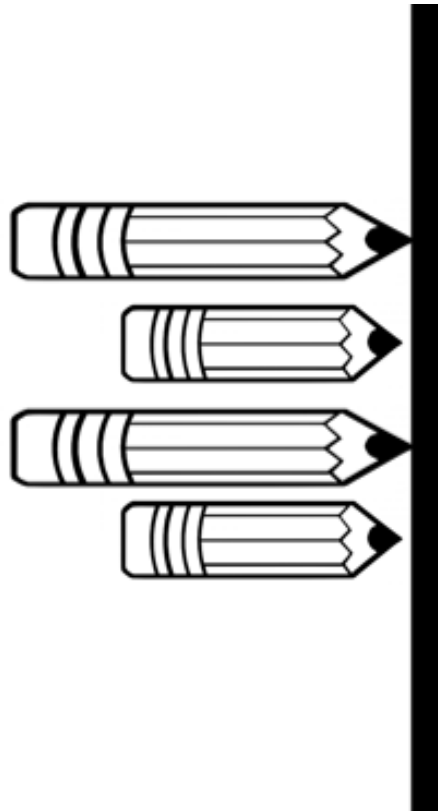


13. මගේ අතේ ඇති මුළු මුද්දල කීයද? (AG-13)



a) මුළු පැන්සල් ගණන කීයද?

b) කොට පැන්සල් ගණන කීයද?



15. එකතු කරමු. (AG-15)

$$\begin{array}{r} 1 \\ + 2 \\ \hline \\ \hline \end{array}$$

$$\begin{array}{r} 4 \\ + 3 \\ \hline \\ \hline \end{array}$$

$$\begin{array}{r} 5 \\ + 0 \\ \hline \\ \hline \end{array}$$

$$\begin{array}{r} 3 \\ + 3 \\ \hline \\ \hline \end{array}$$

$$\begin{array}{r} 9 \\ + 2 \\ \hline \\ \hline \end{array}$$

16. අඩු කරමු. (AG-16)

$$\begin{array}{r} 5 \\ - 2 \\ \hline \\ \hline \end{array}$$

$$\begin{array}{r} 3 \\ - 3 \\ \hline \\ \hline \end{array}$$

$$\begin{array}{r} 9 \\ - 4 \\ \hline \\ \hline \end{array}$$

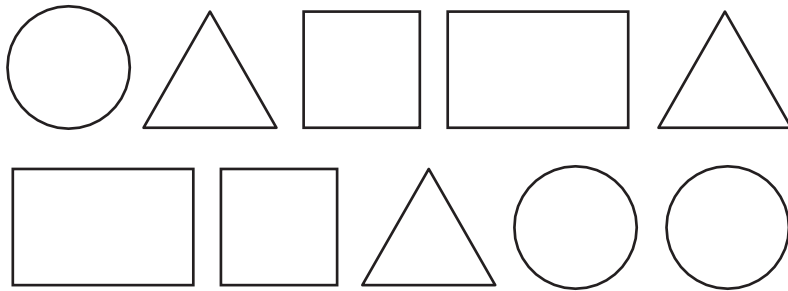
$$9 - 7 = \underline{\quad}$$

$$10 - 2 = \underline{\quad}$$

Annexure 4 – Version 2: Arithmetic Worksheet (Group) [After Delphi]

ගණිතය කුසලතා ඇගයුම් පත්‍රිකාව (ලිඛිත).

1. පහත දී ඇති රූපයේ ඇති ත්‍රිකෝණ ගණන කීයද? (AG-1)
උත්තරය කොටුව තුළ ලියන්න.



2. පහත දී ඇති අකුරු සහ ඉලක්කම් අතරින්
ඉලක්කම් පමණක් රවුම් කරන්න. (AG-2)

r 5 g 4 w h 3 2
u

4. අංකයට ගැලපෙන රූප ගණන යා කරන්න. (AG-3)

3



6



1



4



9



5. අංක දෙකෙන් විශාල අංකය රවුම් කරන්න. (AG-5)

2 5

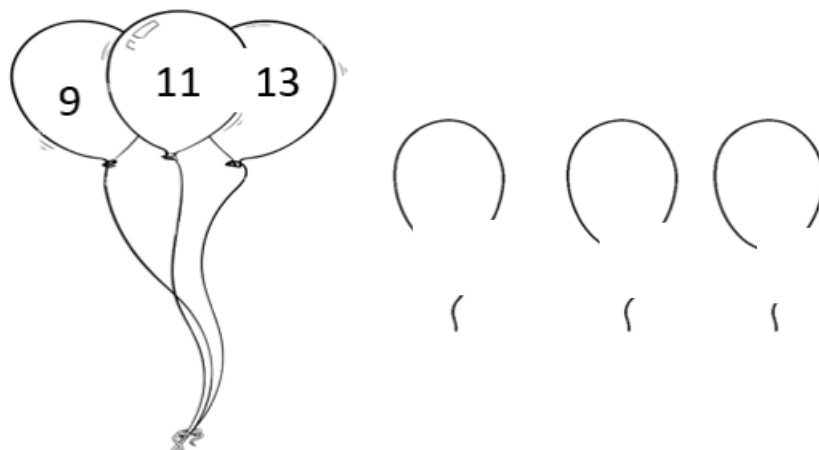
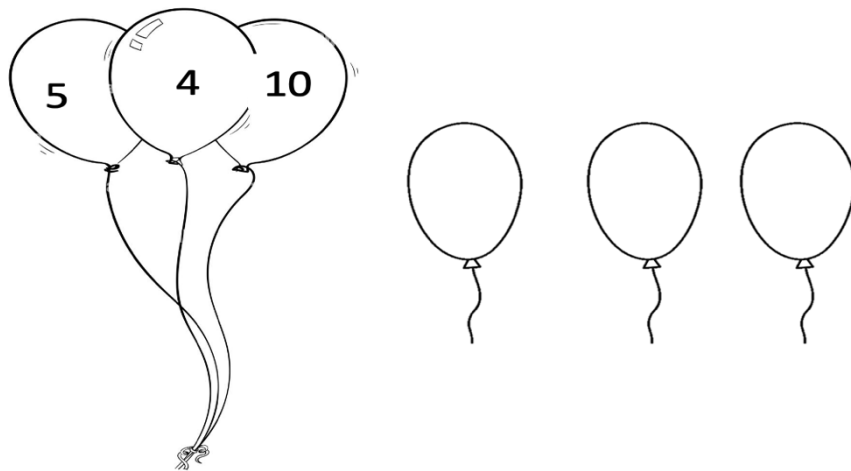

6 4

1 3

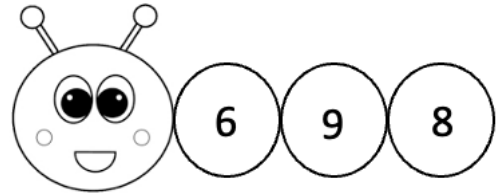
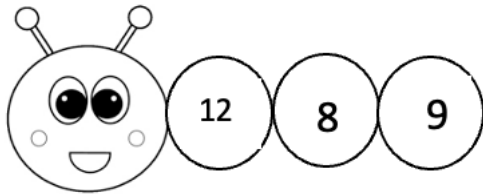
9 8

10 5

6. විශාල අංකය රවුම් කරන්න. (AG-6)



7. දී ඇති අංක වලින් කුඩාම අංකයට යටින් ඉරක් අඳින්න. (AG-7)



8. හිස්තැනට ගැලපෙන අංකය ලියන්න. (AG-8)

1	2	
---	---	--

4	5	
---	---	--

7		9
---	--	---

	11	12
--	----	----

11. එකතු කරන්න. (AG-11)

$$\begin{array}{c} \bigcirc \\ \square \end{array} + \begin{array}{c} \bigcirc \bigcirc \bigcirc \bigcirc \\ \square \end{array} = \square$$

$$\begin{array}{c} \triangle \\ \triangle \triangle \triangle \\ \square \end{array} + \begin{array}{c} \triangle \\ \triangle \\ \square \end{array} = \square$$

$$\begin{array}{c} \text{flower} \\ \text{flower} \\ \text{flower} \\ \text{flower} \\ \square \end{array} + \begin{array}{c} \text{flower} \\ \text{flower} \\ \text{flower} \\ \square \end{array} = \square$$

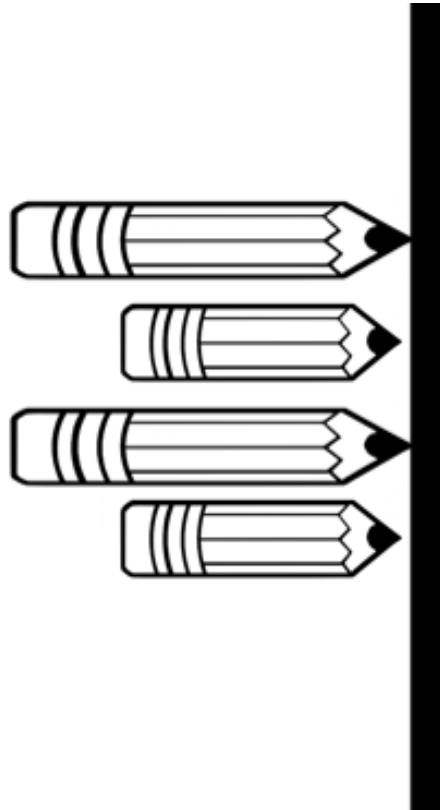
$$3 + 6 = \square$$

$$7 + 5 = \square$$

14. (AG-14)

a) මුළු පැත්සල් ගණන කීයද?

b) කොට පැත්සල් ගණන කීයද?



15. එකතු කරමු. (AG-15)

$$\begin{array}{r} 1 \\ + 2 \\ \hline \\ \hline \end{array}$$

$$\begin{array}{r} 4 \\ + 3 \\ \hline \\ \hline \end{array}$$

$$\begin{array}{r} 5 \\ + 0 \\ \hline \\ \hline \end{array}$$

$$\begin{array}{r} 3 \\ + 3 \\ \hline \\ \hline \end{array}$$

$$\begin{array}{r} 9 \\ + 2 \\ \hline \\ \hline \end{array}$$

16. අඩු කරමු. (AG-16)

$$\begin{array}{r} 5 \\ - 2 \\ \hline \\ \hline \end{array}$$

$$\begin{array}{r} 3 \\ - 3 \\ \hline \\ \hline \end{array}$$

$$\begin{array}{r} 9 \\ - 4 \\ \hline \\ \hline \end{array}$$

$$9 - 7 = \underline{\quad}$$

$$10 - 2 = \underline{\quad}$$

Annexure 5 - Version 1: Reading Worksheet (Individual) [Before Delphi]

කියවීමේ කුසලතා ඇගයුම් පත්‍රිකාව (වාචික).

1. පහත දී ඇති අකුරු කියවන්න. (RI-1)

ට

ර

ය

ම

ද

ක

අ

ස

ඊ

2. පහත දී ඇති වචන කියවන්න. (RI-2)

මල

පාට

අහස


පාසල

දවස

අම්මා

වතුර

3. පහත දී ඇති රවුම් වල පාට කියන්න. (RI-3)



4. ගුරුතුමිය කියන ශබ්දයට අදාළ අකුර පෙන්නන්න. (RI-4)

කළය

නයා

මිදුල

සිතල

5. මෙම වචනයට සමානව හඬනුගෙන වචනයක් කියන්න.
 (RI-5)

කාලය

... මාලය...

වැස්ස
හතර
හාචා
යාළුචා
අත

6. පටන්ගන්නා අකුරෙහි ශබ්දය වෙනස්වන වචනය තෝරන්න. (RI-6)

අම්මා	කරුව	අලියා
අහස	හාචා	අලියා
වහල	වතුර	දවස
හතර	සතුව	හරකා
වතුර	කකුල	කාක්කා

7. අවසන් අකුරෙහි ශබ්දය වෙනස්වන වචනය තෝරන්න. (RI-7)

සාප්පුව	සපත්තුව	බෙහෙත
---------	---------	-------

ගෙය	ගස	දිය
පැන්සල	පාසල	කැවුම්
ගින්න	ඇබුල්	කෙසෙල්
දොර	සතුව	බිත්තර

Annexure 6 – Version 2: Reading Worksheet (Individual) [After Delphi]

කියවීමේ කුසලතා ඇගයුම් පත්‍රිකාව (වෘත්තීය).

8. පහත දී ඇති අකුරු කියවන්න. (RI-1)

ට

ර

ය

ම

ද

ක

අ

ස

ඊ

9. පහත දී ඇති වචන කියවන්න. (RI-2)

මල

පාට

අහස

පාසල

දවස

අම්මා

වතුර

10. ශ්‍රේණුමිභව කියන ශබ්දයට අදාළ අකුර පෙන්වන්න. (RI-4)

කළය

නයා

මිදුල

සිතල

11. මෙම වචනයට සමානව හඬනැගෙන වචනයක් කියන්න. (RI-5)

කාලය

... මාලය...

වැස්ස

.....

හතර

.....

හාවා

.....

යාළුවා

.....

අත

.....

12. පටන්ගන්නා අකුරෙහි ශබ්දය වෙනස්වන වචනය තෝරන්න
 . (RI-6)

අම්මා	තරුව	අලියා
අහස	හාවා	අලියා
වහල	වතුර	දවස
හතර	සතුට	හරකා
වතුර	කකුල	කාක්කා



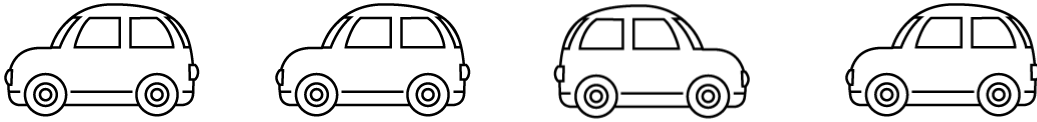
Annexure 7 – Version 1: Reading Worksheet (Group) [Before Delphi]

කියවීමේ කුසලතා ඇගයුම් පත්‍රිකාව
(මුළු පන්තිය).

1. දී ඇති වචන වලින් නිස්කැනට අදාළ වචනය යටින් ඉරක් අදින්න . (RG-1)

- 1) ළමයා උදෙන්ම ගියා (වැස්ස, පාසලට, සපත්තු)
- 2) හාවා පැන පැන (අන, යනවා, හවස)
- 3) අද පායලා (හඳ, ජේර, කාරය)
- 4) අපි කමු (කාක්කා, හවස, අඹ)
- 5) අම්මා බදිනවා (කැවුම්, මාලය, මිදුල)
- 6) අහසේ පාවෙනවා (ගඟ, සරුංගලය, නහය)

2. වෙනස් රූපය තෝරන්න. (RG-2)



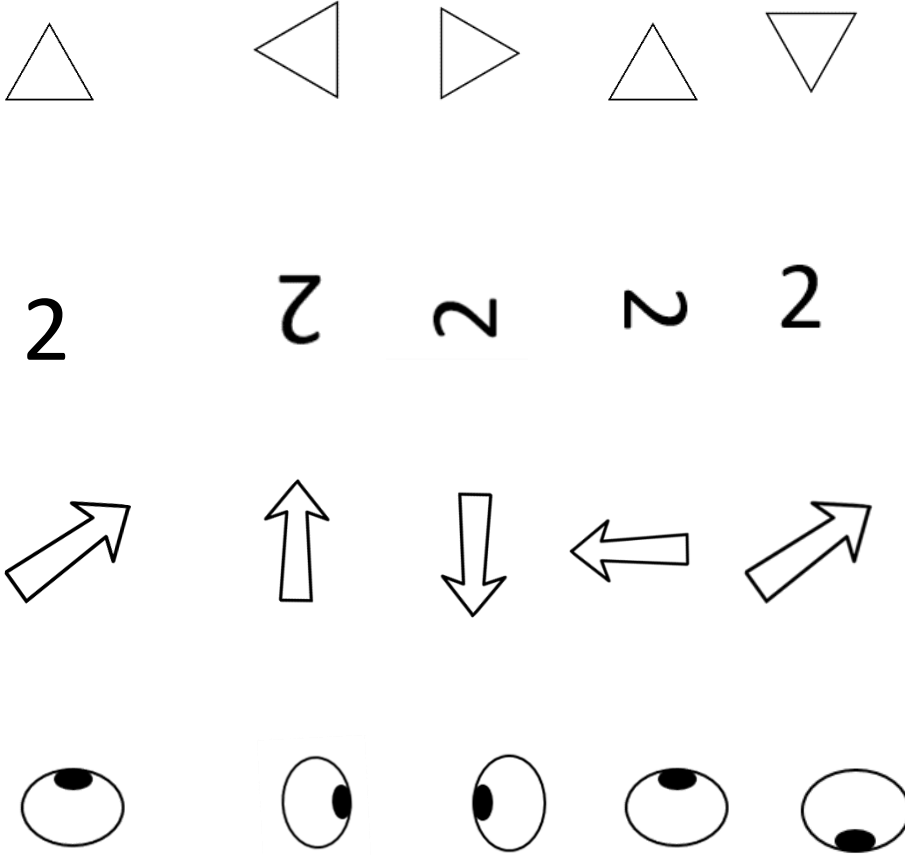
3. පහත රූප අතරින් මාළුවන් රවුම් කරන්න. (RG-3)



4. පහත අකුරු අතරින් වෙනස් අකුර රවුම් කරන්න. (RG-4)

ර ර ර ම
 හ හ ස හ
 දී උ දී දී
 ග ග ය ග ග
 ල ල ල ල ල

5. පළමුව ඇති පිංතූරයට සමාන පිංතූරය රවුම් කරන්න. (RG-5)



6. පහත දී ඇති අකුරෙන් පටන්ගන්නා නමක් ඇති රූපය
යටින් ඉරක් අඳින්න. (RG-6)


ක			
අ			
ම			
ඉ			
ඩු			

7. පහත දී ඇති වචන වල මුල් අකුර ලියන්න. (RG-7)


..... තු ර




..... වූ ව



..... ම න ල යා



..... රු ලී ලා



..... ස් සි




8. පහත දී ඇති වචනය අදාළ රූපය සමඟ යා කරන්න.(RG-8)


ගස



බීම



හරකා




කාක්කා



ගින්න



නටනවා



**9. පහත වාක්‍ය කියවා අසා ඇති ප්‍රශ්න වලට පිළිතුරු
සපයන්න. (RG-9)**

1. උදෙන්ම ඉර පායයි.

පායන්නේ කුමක්ද?.....

2. ගිරවා කොළ පාටයි.

ගිරවාගේ පාට කුමක්ද?.....

3. වළසා අඹ රස කර කර කෑවා.

අඹ කෑවේ කවුද?.....

4. අම්මයි තාත්තයි දරුවන්ට ආදරෙයි.

අම්මයි තාත්තයි දරුවන්ට දෙන්නේ කුමක්ද
?.....

5. අලි පැටියා නටමින් සෙල්ලම් කලා.

සෙල්ලම් කළේ කවුද?.....

6. භාවයි ඉබ්බයි කැලේදී හමු වුනා.

මෙහි ඇති සතූන් නම කරන්න.

.....

ඔවුන් හමු උනේ කොහේදීද ?

.....

10. වෙනස්ව හඬ නැගෙන වචනය තෝරන්න. (RG-10)

අන කන **සිට**

- 1. වතුර සිතල කතුර
- 2. අකුරු පන්සල දන්සල
- 3. දවස නහය සවස
- 4. මීතුරා නවය සතුරා
- 5. කටුව මාලය තාලය



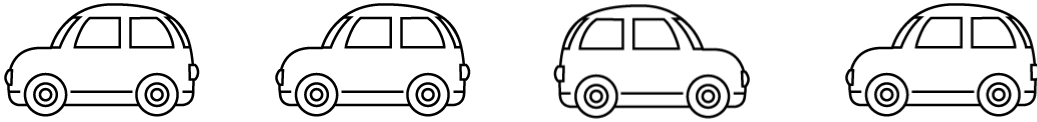
Annexure 8 – Version 2: Reading Worksheet (Group) [After Delphi]

කියවීමේ කුසලතා ඇගයුම් පත්‍රිකාව
(මුළු පන්තිය).

11. දී ඇති වචන වලින් නිස්කැනට අදාළ වචනය යටින් ඉරක් අදින්න. (RG-1)

- 1) ළමයා උදෙන්ම ගියා (වැස්ස, [පාසලට](#), සපත්තු)
- 2) හාවා පැන පැන (අන, යනවා, හවස)
- 3) අද පායලා (හඳ, ජේර, කාරය)
- 4) අපි කමු (කාක්කා, හවස, අඹ)
- 5) අම්මා බදිනවා (කැවුම්, මාලය, මිදුල)
- 6) අහසේ පාවෙනවා (ගහ, සරුංගලය, නහය)

12. වෙනස් රූපය තෝරන්න. (RG-2)



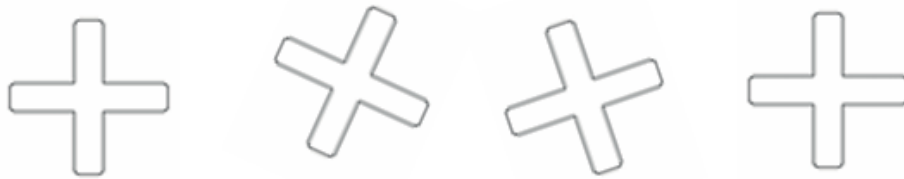
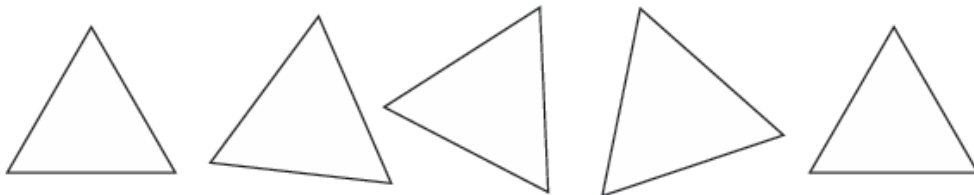
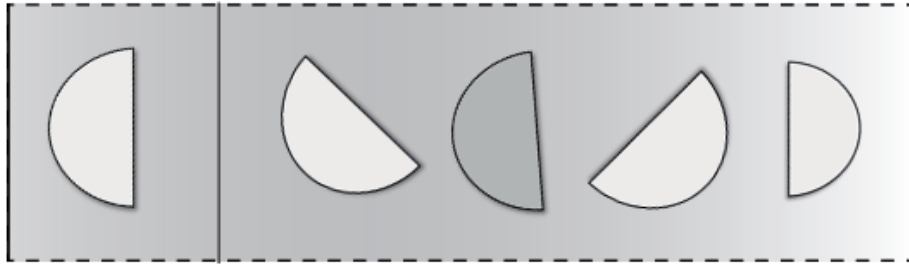
13. පහත රූප අතරින් මාළුවන් රවුම් කරන්න. (RG-3)



14. පහත අකුරු අතරින් වෙනස් අකුර රවුම් කරන්න. (RG-4)



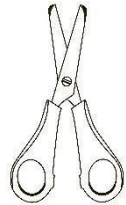
ර ර ර ම
 හ හ ස හ
 දී උ දී දී
 ග ග ය ග ග
 ල ල ල ල ල

15. පළමුව ඇති පිංතූරයට සමාන පිංතූරය රවුම් කරන්න.
(RG-5)

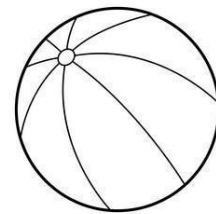



16. පහත දී ඇති අකුරෙන් පටන්ගන්නා නමක් ඇති රූපය
යටින් ඉරක් අඳින්න. (RG-6)


ක





අ






ම



ඉ




ඩු




17. පහත දී ඇති වචන වල මුල් අකුර ලියන්න. (RG-7)


.....කු ර




.....වූ ව



.....ම න ල යා



.....රු ල ළ ලා




.....සි සි




18. පහත දී ඇති වචනය අදාළ රූපය සමඟ යා කරන්න.(RG-8)


ගස



බීම



හරකා




කාක්කා



ගින්න



නටනවා



**19. පහත වාක්‍ය කියවා අසා ඇති ප්‍රශ්න වලට පිළිතුරු
සපයන්න. (RG-9)**

1. උදෙන්ම ඉර පායයි.

පායන්නේ කුමක්ද?.....

2. ගිරවා කොළ පාටයි.

ගිරවාගේ පාට කුමක්ද?.....

3. වළසා අඹ රස කර කර කෑවා.

අඹ කෑවේ කවුද?.....

4. අම්මයි තාත්තයි දරුවන්ට ආදරෙයි.

අම්මයි තාත්තයි දරුවන්ට දෙන්නේ කුමක්ද
?.....

5. අලි පැටියා නටමින් සෙල්ලම් කලා.

සෙල්ලම් කළේ කවුද?.....

6. භාවයි ඉබ්බයි කැලේදී හමු වුනා.

මෙහි ඇති සතූන් නම කරන්න.

.....

ඔවුන් හමු උනේ කොහේදීද ?

.....

20. වෙනස්ව හඬ නැගෙන වචනය තෝරන්න. (RG-10)

අන

කන

සිට

6. වතුර සිතල කතුර

7. අකුරු පන්සල දන්සල

8. දවස නහය සවස

Annexure 9 – Version 1: Writing Worksheet (Individual) [Before Delphi]

ලිවීමේ කුසලතා ඇගයුම් පත්‍රිකාව . (Individual)

1. නම ලියන්න. (WI-1)

.....


2. රවුමක් අඳින්න. (WI-2)

.....

3. දන්නා අකුරු තුනක් (3) ලියන්න. (WI-3)

.....


4. පින්තූරය බලා මතක තබාගෙන අඳින්න. (WI-4)



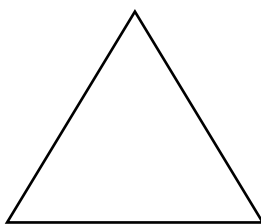


Annexure 10 - Version 2: Writing Worksheet (Individual) [After Delphi]

ලිවීමේ කුසලතා ඇගයුම් පත්‍රිකාව . (Individual)

1. රවුමක් අඳින්න. (WI-2)



2. පින්තූරය බලා මතක තබාගෙන අඳින්න. (WI-4)



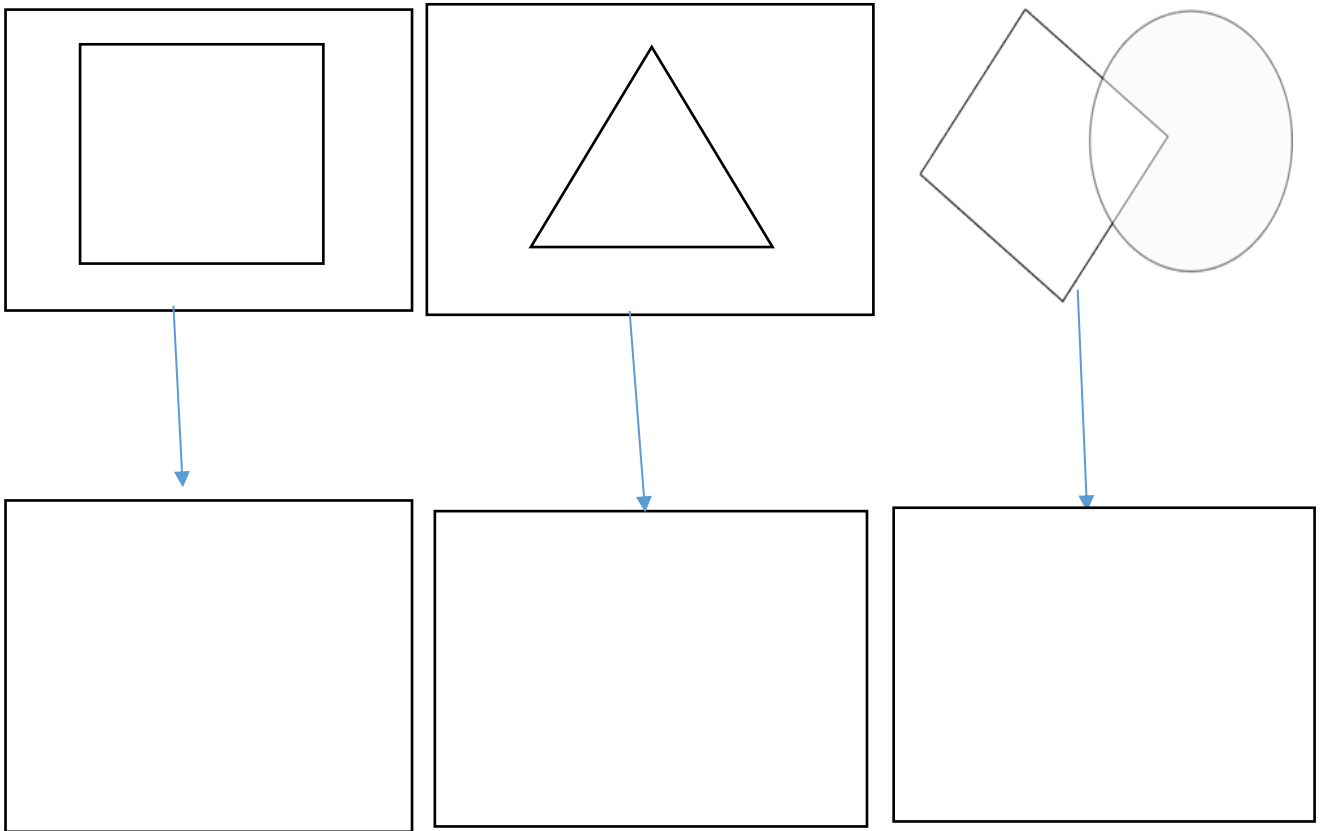
3. බලා ලිවීම (WI-3).

සමර ගල උඩ.
අහල පහල අය.
අත්තමිමා රබන් ගසනවා.
පාසලට යන පාර.
මැස්ස උඩ කැත්ත.
මාමා වෑයෙන් ලෑලි ඉරනවා.
ගීතා හීනෙන් දීකිරි කාලා.
මේනුක කෙසෙල් ලෙල්ල විසිකලා.

Annexure 11 - Version 1: Writing Worksheet (Group) [Before Delphi]

ලිවීමේ කුසලතා ඇගයුම් පත්‍රිකාව(මුළු පන්තිය).

1. දී ඇති හැඩතල පහතින් පිටපත් කරන්න. (WG-1)



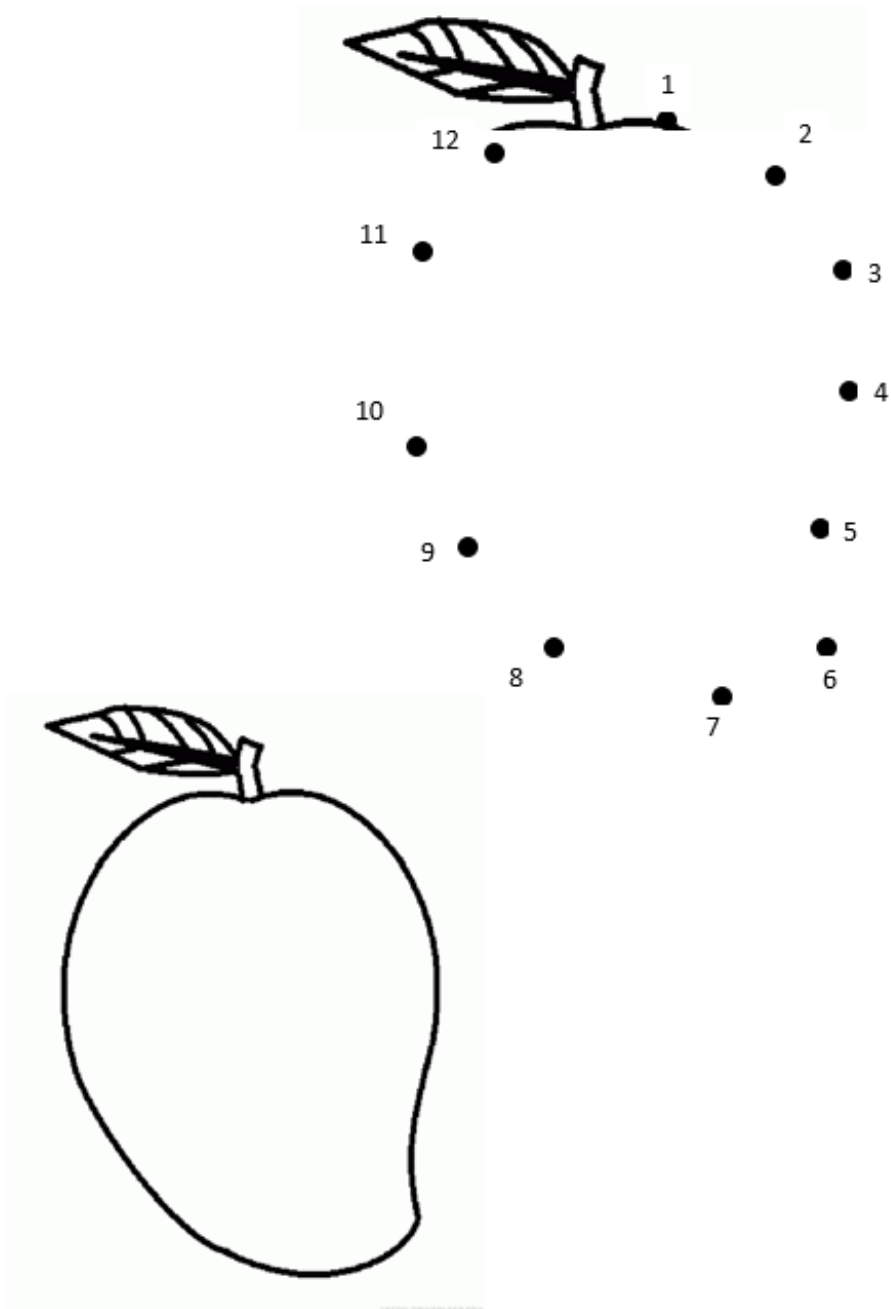
4. අසා ලිවීම (WI-4).

- a. යට - සුසා මේසය යට නිදි. යට
- b. කැටය - ලමයා කාසි කැටය ඇතුළට දැමීම. කැටය
- c. සරම - අම්මා සරම මැහුවා. සරම
- d. ගිරවා - ගිරවා ජේර කනවා. ගිරවා
- e. වත්ත - තාත්තා වත්ත අතුගුවා. වත්ත

5. අසා ලිවීම (අර්ථයක් නොමැති වචන). (WI-5)

- a. ටග
- b. ආය
- c. රබට
- d. ඩැර
- e. වල

2. තීන් යාකර පිංතූරය අඳින්න. (WG-2)



3. පින්තූරය බලා හිස්තැන් පුරවන්න. (WG-3)


1. 

2. මට 

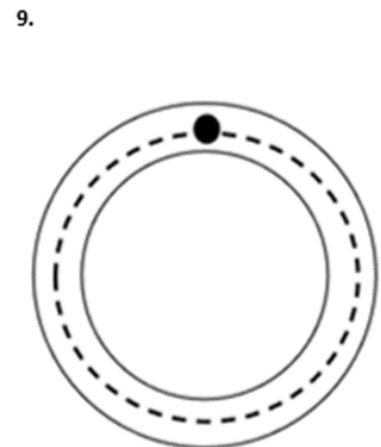
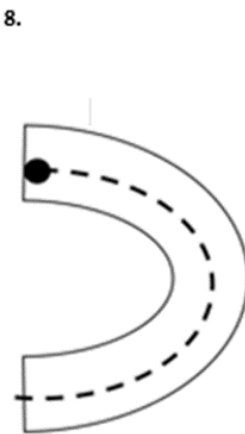
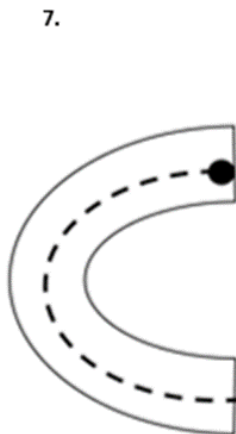
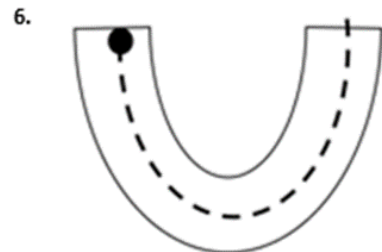
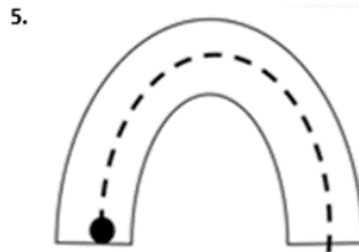
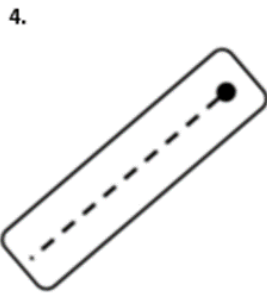
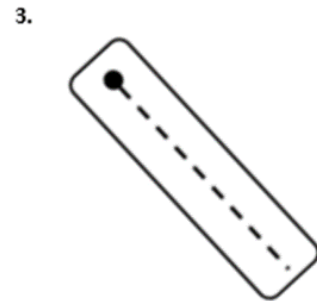
3. 

4. 

4. සපයා ඇති කොටුව තුළ රවුමක් අඳින්න. (WG-4)



5. තිතෙන් පටන්ගෙන තිත් ඉර දිගේ ලියන්න. (WG-5)



6. මේ අයට ගමන යන පාර පෙන්වමු. (WG-6)
තිත් ඉර යා කරන්න.



7. ඔබ දන්නා සිංහල අකුරු 3ක් ලියන්න. (WG-7)

8. ඔබ දන්නා සතෙකුගේ නමක් ලියන්න. (WG-8)

.....


9. රූපය බලා වචනය ලියන්න. (WG-9)



.....




.....



.....


10. අනිත් රූපවල නොගැවෙනසේ තරු රවුම් කරන්න.
(WG-10)




Annexure 12 – Version 2: Writing Worksheet (Group) [After Delphi]

ලිවීමේ කුසලතා ඇගයුම් පත්‍රිකාව(මුළු පන්තිය).

11. පින්තූරය බලා හිස්තැන් පුරවන්න. (WG-3)


5. 

6. මට 

7. 

8. 

12. සපයා ඇති කොටුව තුළ රවුමක් අඳින්න. (WG-4)



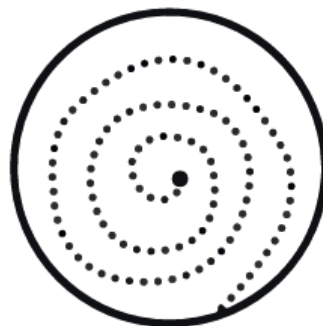
13. තිතෙන් පටන්ගෙන තිත් ඉර දිගේ ලියන්න. (WG-5)



a.



b.



c.



14. හිස් තැන් පුරවන්න (WG-6 and WG-7)



1  _____ පායනවා

2  _____ පනිනවා

3  _____ ඉහළනවා

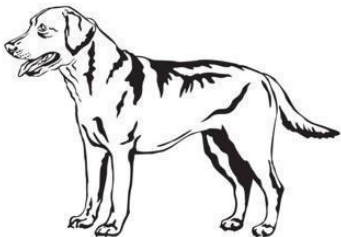
15. රූපය බලා වචනය ලියන්න. (WG-9)



.....



.....



.....

16. අනිත් රූපවල නොගැවෙනසේ තරු රවුම් කරන්න.
(WG-10)

